











NOM : .....

PRENOM : .....

### CP - EPREUVE 1

Durée : 7 minutes











	
	
	
	
	
	
	
	
	
	

NOM : .....

PRENOM : .....

### CP - EPREUVE 1

Durée : 7 minutes











	
	
	
	
	
	
	
	
	
	

NOM : .....

PRENOM : .....

**CP - EPREUVE 1**

Durée : 7 minutes











		J'ai 7 jetons. J'en ajoute 1. Combien j'en ai en tout?
		Combien font 2 et 2 ?
		Il y a 3 billes dans une main et 4 dans l'autre. Combien y a-t-il de billes ?
		2 et encore 3, ça fait?
		3, j'enlève 1, combien ça fait?
		Quel nombre j'obtiens si j'ajoute 1 à 4?
		Il y a 5 chats et 3 balles. Combien de chats n'ont pas de balles?
		5 et encore 2, ça fait...
		J'ai 4 billes. A la récréation j'en gagne 2. Combien ai-je de billes maintenant?
		Léo a 4 voitures, il en perd une. Combien lui en reste-t-il?

NOM : .....

PRENOM : .....

**CP - EPREUVE 2**

Durée : 7 minutes











		J'ai 8 jetons. J'en ajoute 1. Combien j'en ai en tout?
		Combien font 3 et encore 2 ?
		Il y a 4 billes dans une main et 3 dans l'autre. Combien y a-t-il de billes ?
		Il y a 8 bonbons dans le sac, j'en mange un. Combien y a -t-il de bonbons dans le sac maintenant?
		8 et encore 2, ça fait...?
		Quel nombre j'obtiens si j'ajoute 1 à 6?
		Il y a 8 lapins et 6 carottes. Combien de lapins n'ont pas de carottes?
		1 et encore 2, ça fait...?
		8, j'enlève 1, combien ça fait?
		J'ai 5 billes. A la récréation j'en gagne 4. Combien ai-je de billes maintenant?

NOM : .....

PRENOM : .....

### CP - EPREUVE 3

Durée : 7 minutes











	$6 + 3$	
	Le double de 3	
	Je lève mes 10 doigts, j'en baisse 4. Combien de doigts restent levés ?	
	Il y a 8 bonbons dans le paquet. J'en mange 3. Combien en reste-t-il ?	
	$2 + 6$	
	$4 + 3$	
	le double de 5	
	$7 + 3$	
	J'avais 18 billes avant la récré. J'en perds 3. Combien j'ai de billes à la fin de la récré ?	
	$1 + 8$	

NOM : .....

PRENOM : .....

### CP - EPREUVE 4

Durée : 7 minutes







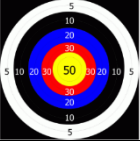



	$7 + 2$	
	Le double de 4	
	Je lève mes 10 doigts, j'en baisse 6. Combien de doigts restent levés ?	
	$20 - 2$	
	$3 + 6$	
	$5 + 4$	
	le double de 6	
	$7 + \dots = 10$	
	Il y a 10 bonbons dans le paquet. J'en mange 3. Combien en reste-t-il ?	
	$1 + 9$	

NOM : .....

PRENOM : .....

### CP - EPREUVE 5

Durée : 6 minutes







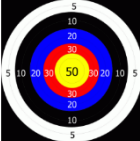




	$30 + 10$	
	$6 + 7$	
	$30 + 7$	
	Quelle est la moitié de 4?	
	$24 - 4$	
	J'ai tiré deux flèches dans le 20. Combien ai-je de points?	
	Jules a 6 billes au début de la récréation. Il en gagne 5. Combien en a-t-il maintenant?	
	$40 + 5$	
	Quelle est la moitié de 10?	
	$37 - 3$	

NOM : .....

PRENOM : .....

### CP - EPREUVE 6

Durée : 6 minutes











	$20 + 30$	
	$8 + 7$	
	$50 + 2$	
	La moitié de 12	
	$24 - 3$	
	J'ai tiré une flèche dans le 50 et une dans le 10. Combien ai-je de points?	
	Jules a 6 billes au début de la récréation. Il en gagne 7. Combien en a-t-il maintenant?	
	$50 + 8$	
	La moitié de 16	
	$31 - 4$	

NOM : .....

PRENOM : .....

## CP - EPREUVE 7

Durée : 5 minutes











	$40 + 20$	
	$7 + 8$	
	$50 + 7$	
	la moitié de 12	
	$50 - 2$	
	J'ai déjà un billet de 50€. Pour mon anniversaire, on me donne 20€. Combien ai-je d'argent ?	
	$8 + 9$	
	Il y a 60 enfants et 4 adultes dans le bus. Combien cela fait-il de personnes?	
	la moitié de 18	
	$68 - 4$	

NOM : .....

PRENOM : .....

## CP - EPREUVE 8

Durée : 5 minutes











	$30 + 50$	
	$5 + 6$	
	$8 + 60$	
	la moitié de 14	
	$57 - 5$	
	Paul a 40€, sa sœur Inès a 30€. Combien ont-ils d'argent en tout?	
	$9 + 8$	
	La maîtresse a un paquet de 40 cahiers et 3 cahiers seuls. Combien a-t-elle de cahiers en tout?	
	la moitié de 20	
	$60 - 4$	

NOM : .....

PRENOM : .....

## CP - EPREUVE 9

Durée : 4 minutes











	$70 + 6$	
	$20 + 10 + 50$	
	$67 - 4$	
	$62 + 4$	
	$36 + 40$	
	$80 + 3$	
	$40 + 40 + 10$	
	J'ai 46 euros. Je fais les courses, maintenant j'ai 5 euros. Combien j'ai dépensé ?	
	$78 + 5$	
	$24 + 53$	

NOM : .....

PRENOM : .....

## CP - EPREUVE 10

Durée : 4 minutes

	$60 + 9$	
	$40 + 30 + 20$	
	$99 - 5$	
	$85 + 2$	
	$50 + 43$	
	$90 + 6$	
	$20 + 20 + 10 + 30$	
	La maitresse a 57 cahiers, elle en distribue 6. Combien en a-t-elle maintenant ?	
	$65 + 6$	
	$43 + 41$	